

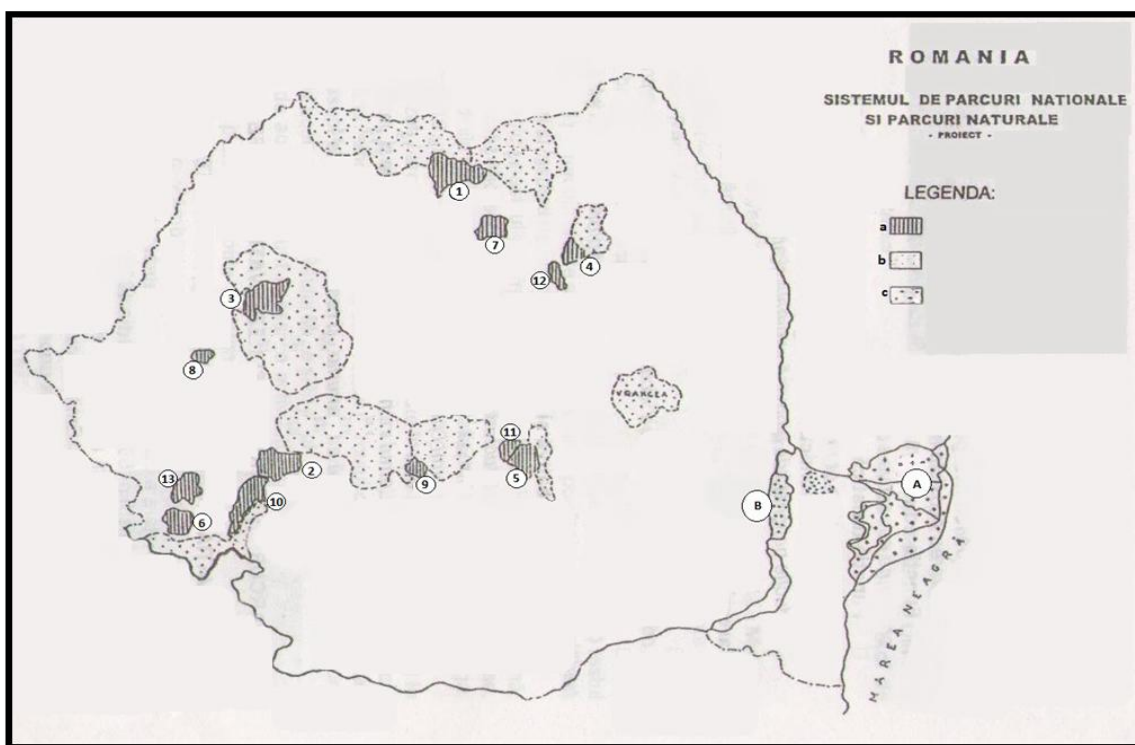
**MINISTERUL EDUCAȚIEI NAȚIONALE
INSPECTORATUL ȘCOLAR JUDEȚEAN HUNEDOARA**

**OLIMPIADA DE GEOGRAFIE
ETAPA JUDEȚEANĂ – 15 MARTIE 2014, CLASA a XI- a
PROBA PRACTICĂ SCRISĂ**

**Timpul de lucru este de 1 oră.
Toate subiectele sunt obligatorii.
Se acordă 10 puncte din oficiu.**

SUBIECTUL I (18 puncte):

Identificați pe harta de mai jos, la punctele marcate cu cifre de la 1 la 13, respectiv litere A și B, numele celor cincisprezece zone protejate. Precizați tipul ariei naturale ocrotite conform simbolurilor din legendă (a, b, c).








SUBIECTUL II (30 puncte)

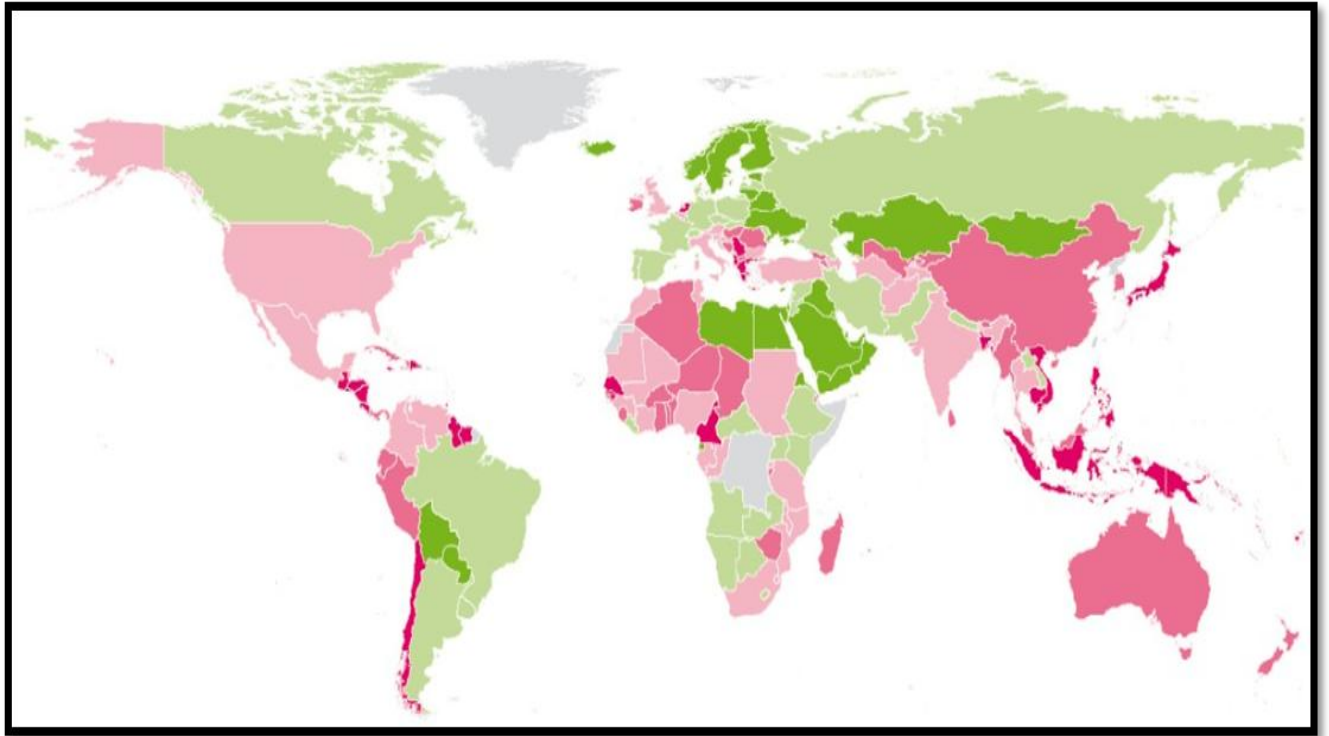
Comparați pe baza celor două valori , menționate , ale bilanțului radiativ respectiv , 95 Kcal/cm^2 și 70 Kcal/cm^2 , tipurile de medii geografice definite de acestea , precizând:

- poziția geografică;
- trei elemente esențiale privind clima;
- particularitățile biodiversității impuse de valorile bilanțului radiativ sus menționate;
- trei aspecte care explică dimensiunile impactului antropic.

SUBIECTUL III (30 puncte)

	VL- Risc foarte scăzut (R -Redus)
	L -Risc scăzut (C -Considerabil)
	S -Risc semnificativ (S -Semnificativ)
	H -Risc înalt (M -Mare)
	E -Risc extrem (E -Extrem)

În funcție de treptele de evoluție ale riscului , ilustrate în tabelul alăturat , arătați care sunt regiunile geografice în care populația este frecvent expusă fenomenelor de risc și precizați, pentru regiunile cu risc semnificativ, cu risc mare și cu risc extrem , principalele două fenomene de risc , care se manifestă la nivelul acestora.



SUBIECTUL IV (12 puncte):

Precizați 2 diferențe între procesele de globalizare și de regionalizare.